


# Mathématiques 2 (30 mars - 3 avril)


## Compter jusqu'à 79

1 Quel est le nombre de carreaux de chaque tapis ?

Il y a 70 carreaux.

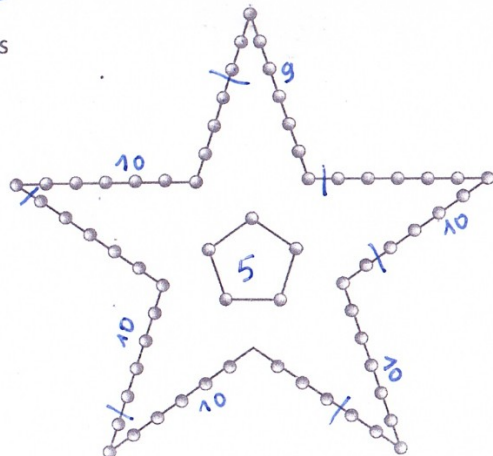


Il y a 75 carreaux.




2 Quel est le nombre d'ampoules dans cette étoile ?


L'étoile comporte 64 ampoules.




3 Colorie les bonnes étiquettes.



- 63
- 73
- soixante-treize
- soixante-trois




- 65
- 75
- soixante-cinq
- soixante-quinze



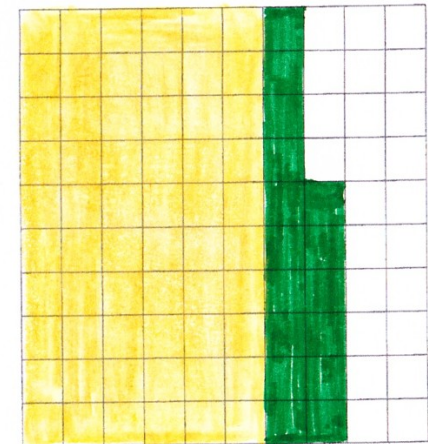
- 67
- 77
- soixante-sept
- soixante-dix-sept

4 Colorie en bleu soixante-douze carreaux.



J'ai colorié 72 carreaux.

5 Colorie en jaune soixante carreaux. Colorie en vert seize carreaux.



J'ai colorié 76 carreaux.