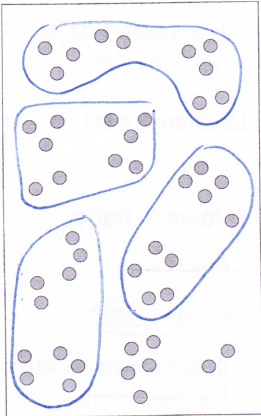


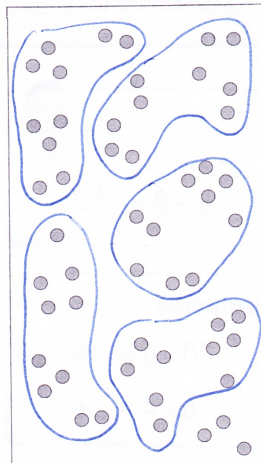


Comparaison de nombres comme Dédé et comme Picbille

Groupe les jetons par 10 et **écris** le nombre.

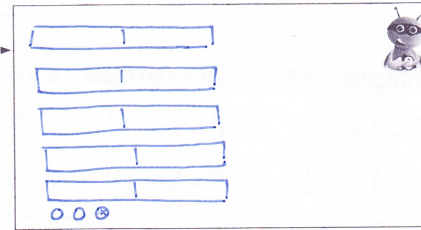



47

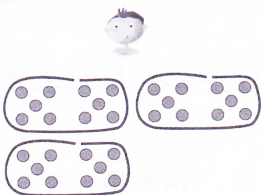
Dessine les groupes de dix et les jetons isolés comme Dédé et comme Picbille.




53



Qui a le plus grand nombre ? Quelle est la différence ?



Dédé a 30 jetons.



Picbille a 30 jetons.

Entoure ou barre.

- C'est Dédé.
- C'est Picbille.
- Ils ont autant de jetons l'un que l'autre.

La différence est 0.

Dédé a 40 jetons.

Picbille a 39 jetons.

Entoure ou barre.

- C'est Dédé.
- C'est Picbille.
- Ils ont autant de jetons l'un que l'autre.

La différence est 1.

Dédé a 37 jetons.

Picbille a 40 jetons.

Entoure ou barre.

- C'est Dédé.
- C'est Picbille.
- Ils ont autant de jetons l'un que l'autre.

La différence est 3.

Imagine ce que voit Dédé et **complète** l'égalité.

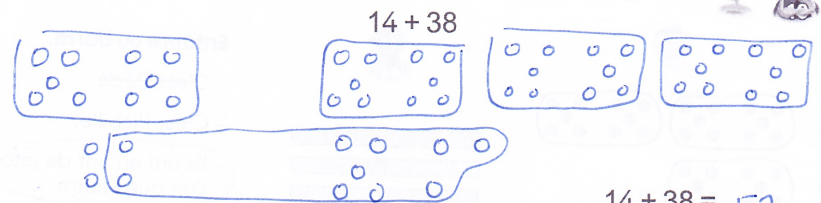
Si tu n'es pas sûr(e), dessine comme Dédé au brouillon.

5 + 9 = 14 7 + 5 = 12 6 + 5 = 11 5 + 8 = 13

Imagine que Picbille barre « au début ». Si tu n'es pas sûr(e), dessine au brouillon.

5 - 3 = 2 8 - 7 = 1 9 - 9 = 0 10 - 6 = 4
 7 - 4 = 3 9 - 5 = 4 8 - 4 = 4 6 - 4 = 2

Calcule en dessinant comme Dédé ou comme Picbille.



14 + 38 = 52