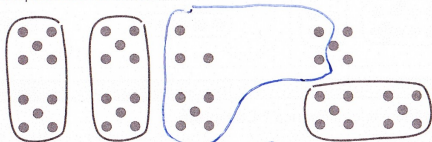


Addition de 2 nombres à 2 chiffres (2)

Dédé calcule $28 + 15$.

Il imagine que ses points sont des enfants.

Calcule.



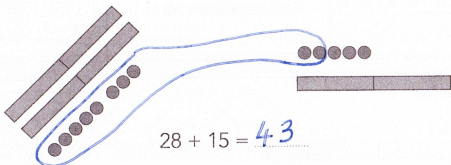
$28 + 15 = 43$



Picbille calcule $28 + 15$.

Il imagine que ses jetons sont des enfants.

Calcule.

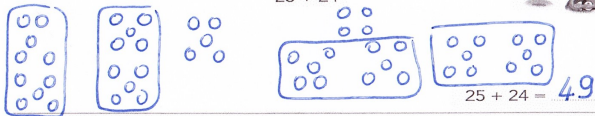


$28 + 15 = 43$



Calcule en dessinant comme Picbille ou comme Dédé.

$25 + 24$

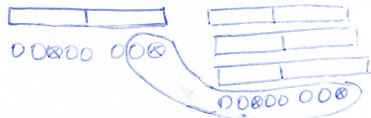


$25 + 24 = 49$



Calcule en dessinant comme Picbille ou comme Dédé.

$18 + 38$



$18 + 38 = 56$



Complète.


- Dans un bouquet, il y a 18 fleurs. On ajoute 38 fleurs. Maintenant, il y a 56 fleurs en tout.
- Madame Ledoux a 18 euros dans son portemonnaie. Elle y met 38 autres euros. Maintenant, madame Ledoux a 56 euros dans son portemonnaie.

Invente d'autres problèmes d'addition avec les nombres 18 et 38.

Calcule en dessinant comme Dédé ou comme Picbille.




$26 + 23$



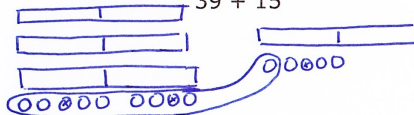
$26 + 23 = 49$

$13 + 17$



$13 + 17 = 30$

$39 + 15$




$39 + 15 = 54$

Calcule

$6 - 5 = 1$ $8 - 3 = 5$ $9 - 3 = 6$ $10 - 7 = 3$
~~00000 0~~ ~~00000 000~~ ~~00000 0000~~ ~~00000 00000~~

$7 - 4 = 3$ $9 - 8 = 1$ $8 - 0 = 8$ $7 - 2 = 5$
~~00000 00~~ ~~00000 0000~~ ~~00000 000~~ ~~00000 00~~

Calcule



$5 + 7 = 12$ $3 + 9 = 12$ $7 + 6 = 13$ $5 + 8 = 13$

$9 + 6 = 15$ $8 + 4 = 12$ $5 + 5 = 10$ $9 + 5 = 14$